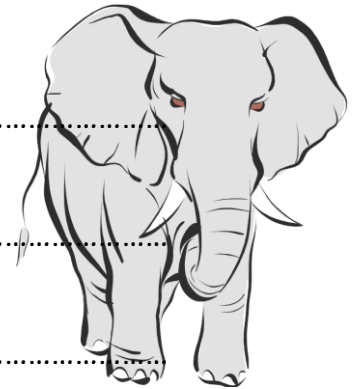


LA REGLE DE 3 : EXERCICES

- 1) Au zoo, 8 éléphants mangent 96 kg de nourriture au total chaque jour. Combien de kg de nourriture 6 éléphants mangent-ils chaque jour ? Et chaque semaine ?



.....


.....

.....

Solution :

.....

- 2) 10 bouteilles de vin coûtent au total 45€ au supermarché. Combien coûtent 4 bouteilles de ce vin ?



.....

.....


.....

Solution :

.....

3) Pour cueillir des poires dans le verger de Robert pendant 2 heures, celui-ci demande 12 €. Combien cela coûte-t-il pour 2h30 ?

.....
.....
.....



Solution :

.....

4) 7 tubes de gouache coûtent 17,50 €. Combien coûtent 5 tubes ?

.....
.....
.....

Solution :

.....

5) Ma sœur a payé 20 € pour 4 albums de Tintin. Combien aurait-elle payé pour 6 ? Et pour 10 ?

.....

.....

.....

6) 5 berlingots contiennent 1 litre de jus d'orange. Quelle est la capacité de 8 berlingots ?

.....

.....

.....

7) En une heure, 9 ouvriers cueillent 400 poires. Combien d'ouvriers faudrait-il pour récolter la même quantité de poires en 45 minutes ?

.....

.....

.....

8) 10 boîtes de 6 œufs coûtent 9 €. Quel est le prix de 10 œufs ?

.....

.....

.....

