




| | | |
|---------------------------------------|----------------------|---------------------------------|
| Classe : 1D / 2D | Matière : EDM | Professeur : Mme Lagmari |
| Intitulé : Dossier de révision en EDM | | |


L'orientation

1- Complète la rose des vents ci-dessous.



2- Voici une carte au trésor ! Pour trouver le trésor caché sur l'île, reconstitue les indications à suivre pour le trouver. Trace ton chemin.

1 pas = 1 case



Indication à suivre :

.....

.....

.....

.....

.....

3- En t'aidant de la carte suivante, localise les villes suivantes les unes par rapport aux autres.

Exemple : Bruxelles se situe au Sud d'Anvers



- Charleroi se situe au de Bruxelles
- Eupen se situe à de Liège
- Mons se situe au de Gand
- Bruges se situe à d'Anvers
- Bastogne se situe au d'Arlon
- Tournai se situe au de Mouscron
- Ypres se situe au De Bruges
- St-Nicolas se situe au de La Louvière
- Verviers se situe au de Bastogne

Les continents, les océans...

- 1- **Relis** sur le planisphère et le globe terrestre ci-dessous les éléments à la place qui lui correspond.



Hémisphère Sud

Pôle Nord

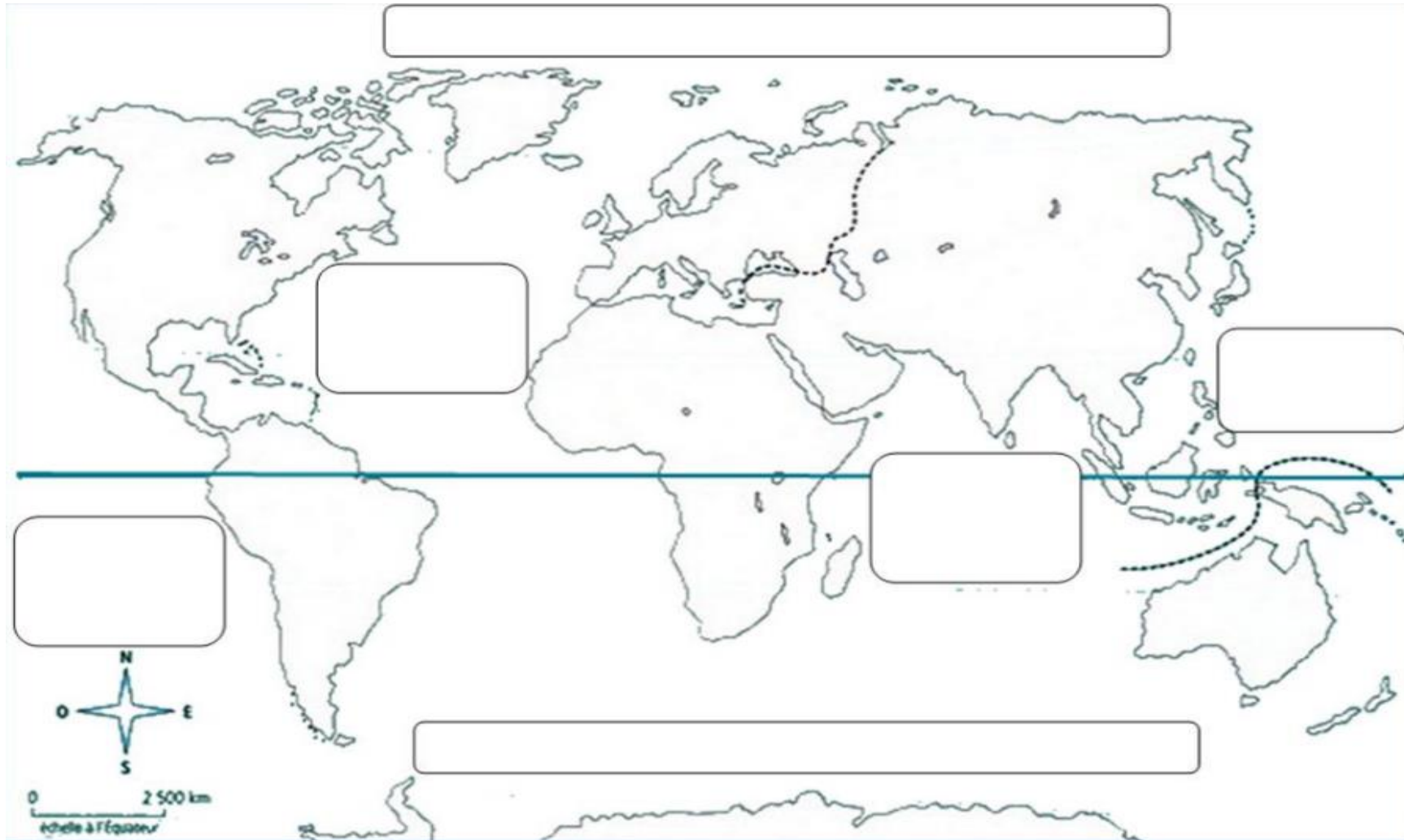
L'équateur

Hémisphère Nord

Pôle Sud



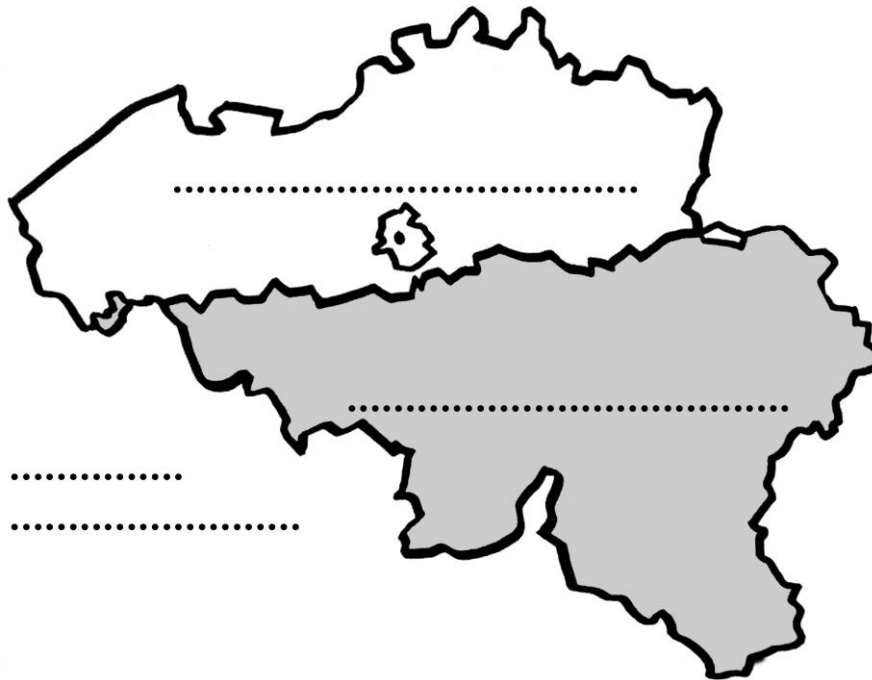
2- Sur la carte de la page suivante, colorie les différents continents et océans et indique-les. N'oublie pas de compléter ta légende.



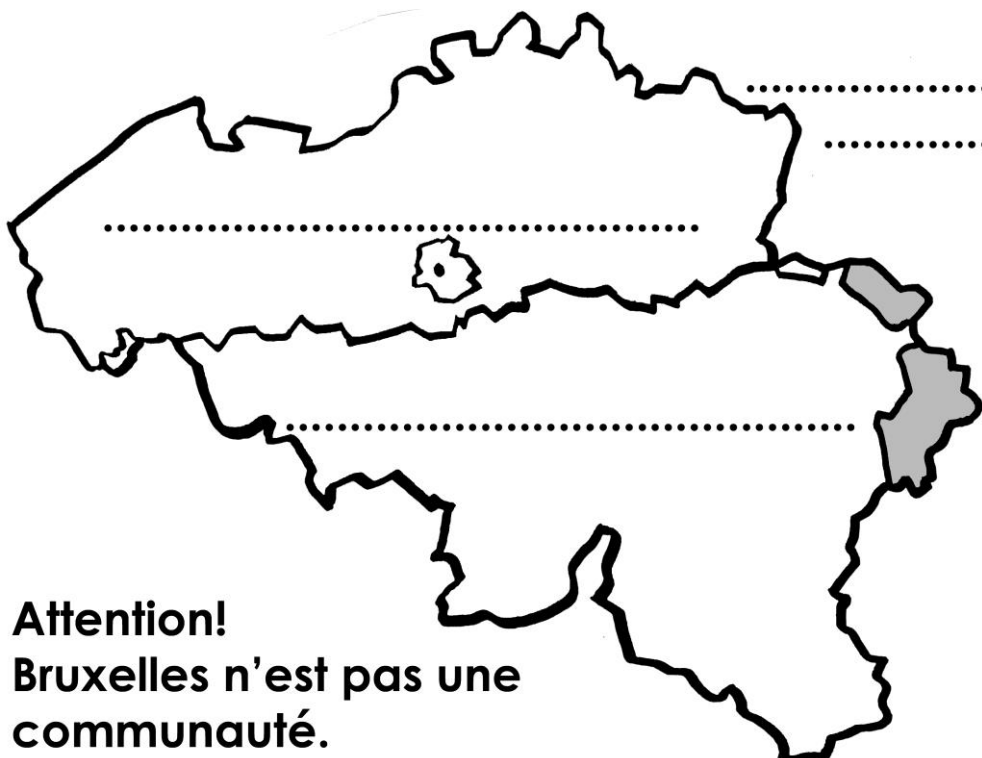
Travail à conserver et à ramener à votre professeur lors de la reprise des cours

La Belgique : provinces, régions, communautés

1- Sur la carte ci-dessous, replace les régions de Belgique.



2- Sur la carte ci-dessous, replace les communautés de Belgique



Attention!
Bruxelles n'est pas une communauté.

3- Complète la carte de Belgique ci-dessous en y indiquant les provinces de Belgique



4- Quel est le chef-lieu des provinces suivante ? Complète le tableau.

| Province | Chef-lieu |
|-------------------|-----------|
| Anvers | |
| Limbourg | |
| Flandre-Orientale | |
| Namur | |
| Luxembourg | |

Les paysages

1- Analyse les 2 paysages suivants en fonction des différents éléments abordés en classe.



- 1- Localisation du lieu :
- 2- Type de paysage :
- 3- Prise de vue :
- 4- Tu repères en noir la ligne d'horizon et tu la caractérises :
- 5- Tu délimites en rouge les différents plans.
- 6- Éléments dominants du paysage :

| Éléments | Avant-plan | Second plan | Arrière-plan |
|-------------------------------------|------------|-------------|--------------|
| <u>Relief</u> | | | |
| <u>Végétation</u> | | | |
| <u>Hydrographie</u> | | | |
| <u>Voie de communication</u> | | | |
| <u>Bâtiments</u> | | | |
| <u>Activités humaines</u> | | | |



- 1- Localisation du lieu :
- 2- Type de paysage :
- 3- Prise de vue :
- 4- Tu repères en noir la ligne d'horizon et tu la caractérises :
- 5- Tu délimites en rouge les différents plans.
- 6- Éléments dominants du paysage :

| Éléments | <i>Avant-plan</i> | <i>Second plan</i> | <i>Arrière-plan</i> |
|-------------------------------------|-------------------|--------------------|---------------------|
| <u>Relief</u> | | | |
| <u>Végétation</u> | | | |
| <u>Hydrographie</u> | | | |
| <u>Voie de communication</u> | | | |
| <u>Bâtiments</u> | | | |
| <u>Activités humaines</u> | | | |

Les grandes périodes de l'Histoire

1- Complète la ligne du temps suivante en y replaçant les différentes périodes de l'Histoire et en y indiquant l'événement qui marque le début et la fin de la période. N'oublie pas ta légende.

The diagram shows a horizontal timeline arrow pointing right, divided into 'Avant JC' (Before Christ) and 'Après JC' (After Christ) by a vertical red line labeled 'JC'. Below the arrow, several key dates are marked with corresponding icons and dotted lines for student input:

- 3 000**: Icon of three early humans. Below it are three dotted lines for a legend.
- 476**: Icon of a Roman soldier with a spear. Below it are three dotted lines for a legend.
- 1492**: Icon of a sailing ship. Below it are three dotted lines for a legend.
- 1789**: Icon of a historical battle scene. Below it are three dotted lines for a legend.
- Nous**: The end of the timeline. Below it are three dotted lines for a legend.